

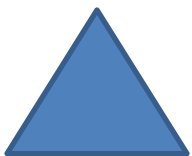

ZABAWY MATEMATYCZNE

KARTY PRACY

(do wydruku)

dla dzieci w wieku
przedszkolnym


Nazwij figury. Pokoloruj jednakowo figury w tym samym kształcie.
Policz ile jest danych figur i poniżej wstaw odpowiednią liczbę.



.....



.....




.....




.....


Policz serduszka. W ramce obok narysuj **tyle samo** serduszek.
Liczbę serduszek wpisz w okienka na dole.

	
<input type="text"/>	<input type="text"/>












Policz słońeczka. W ramce obok narysuj dwa słońeczka **więcej**.
Liczbę słońeczek wpisz w okienka na dole.

	
<input type="text"/>	<input type="text"/>


Policz kwiaty. W ramce obok narysuj trzy kwiaty **mniej**.
Liczbę kwiatów wpisz w okienka na dole.

	
<input type="text"/>	<input type="text"/>

Uzupełnij tabelę według wzoru.


Policz owady po lewej i po prawej stronie. Wpisz odpowiednie liczby.



	+		=	
--	---	--	---	--



	+		=	
--	---	--	---	--



	+		=	
--	---	--	---	--



	+		=	
--	---	--	---	--

Przeczytaj zadania i wpisz odpowiednie liczby.

Mama zerwała 5 malin i 4 gruszki. Ile owoców zerwała mama?

$$\square + \square = \square$$

Tata kupił 3 bułki i 1 chleb. Ile sztuk pieczywa kupił tata?

$$\square + \square = \square$$

W ogrodzie rośnie 6 ogórków i 2 pomidory. Ile warzyw rośnie w ogrodzie?

$$\square + \square = \square$$

Kuba ma 2 klocki niebieskie i 8 klocków czerwonych. Ile klocków ma Kuba?

$$\square + \square = \square$$

Przeczytaj zadania i wpisz odpowiednie liczby.

Ela miała 9 truskawek. Zjadła 3 truskawki. Ile owoców zostało Eli?

$$\square - \square = \square$$

Babcia pokroiła ciasto na 10 kawałków. 2 kawałki zjadł dziadek.
Ile kawałków ciasta zostało?

$$\square - \square = \square$$

Na drzewie wisało 7 śliwek. 6 śliwek spało. Ile owoców zostało na drzewie?

$$\square - \square = \square$$

Wojtek miał 5 balonów. 3 balony podarował koledze.
Ile balonów zostało Wojtkowi?

$$\square - \square = \square$$